

# Módulo de Semelhança de Triângulos e Teorema de Tales

## Semelhanças entre Figuras e Polígonos.

8<sup>o</sup> ano/9<sup>a</sup> série E.F.



Semelhança de Triângulos e Teorema de Tales  
Semelhanças entre Figuras e Polígonos.

### 1 Exercícios Introdutórios

**Exercício 1.** Observe a figura abaixo e responda:

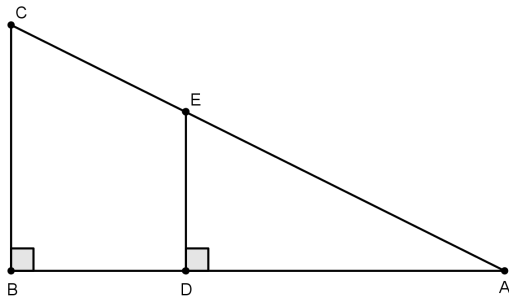


Figura 1

- a) os triângulos  $\triangle ABC$  e  $\triangle ADE$  são semelhantes?
- b) caso sejam semelhantes, quais são os lados homólogos?

**Exercício 2.** Determine se os triângulos  $\triangle KLM$  e  $\triangle MPQ$  são semelhantes.

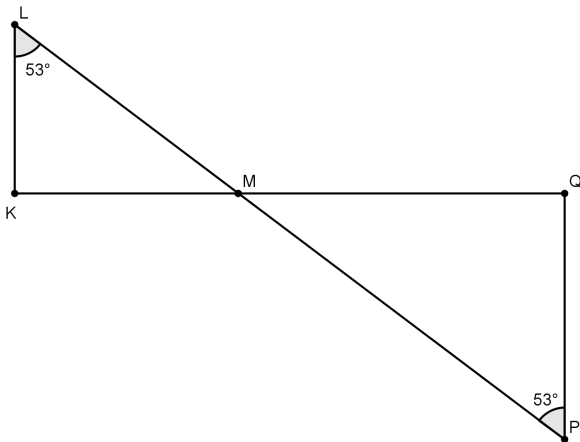


Figura 2

**Exercício 3.** Qual a razão de semelhança dos triângulos abaixo?

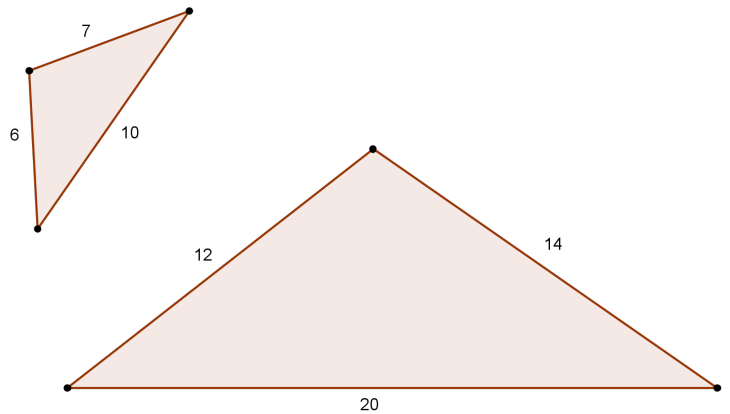


Figura 3

### 2 Exercícios de Fixação

**Exercício 4.** Como João pode medir a altura de um poste, conhecendo sua altura, 1,60m, o comprimento de sua sombra, 2m, o comprimento da sombra do poste no mesmo instante que mediu sua sombra, 7m?

**Exercício 5.** Na figura abaixo,  $BC = 12\text{cm}$  e  $AH = 8\text{cm}$ , sendo  $\overline{AH}$  altura do  $\triangle ABC$ . Determine o lado do quadrado  $MNPQ$ .

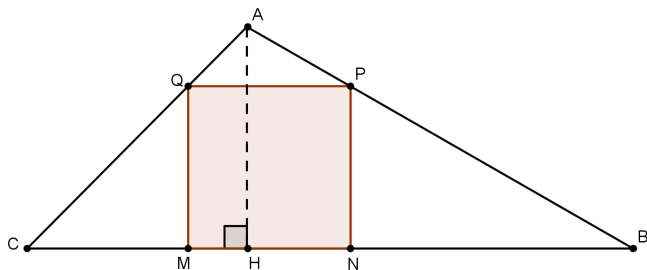


Figura 4

**Exercício 6.** Na figura abaixo, temos uma reta que passa pelos pontos  $A$ ,  $B$  e  $C$  e outra que passa por  $A$  e é tangente às circunferências de centros  $B$  e  $C$  e raios  $3\text{cm}$  e  $5\text{cm}$ . Se  $AB = 7\text{cm}$ , determine  $BC$ .

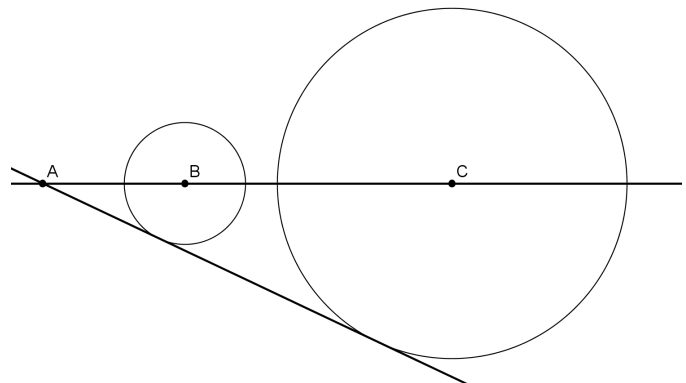


Figura 5

**Exercício 7.** Sabendo que  $AB = 15$ ,  $BC = 20$ ,  $AD = 10$  e  $DC = 15$ , determine a medida de  $\overline{DE}$  na figura abaixo.

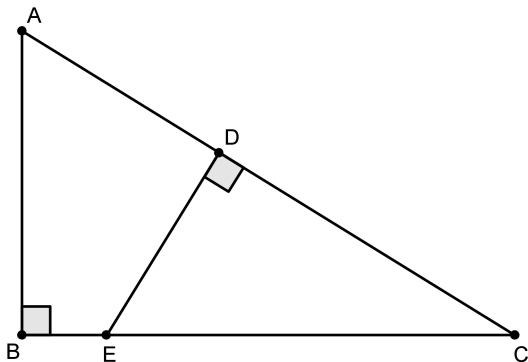


Figura 7

**Exercício 8.** Na figura abaixo, temos  $AC = 4$  e  $AB = 6$ . Determine o perímetro do quadrado  $AEDF$ .

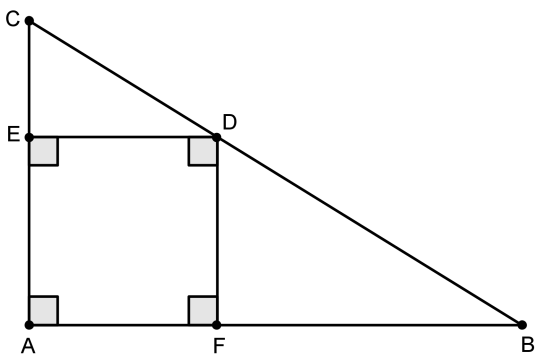


Figura 8

**Exercício 9.** No retângulo da figura abaixo temos que  $AB = 20$ ,  $BC = 12$  e  $AM = MB$ . Determine a medida de  $\overline{EF}$ .

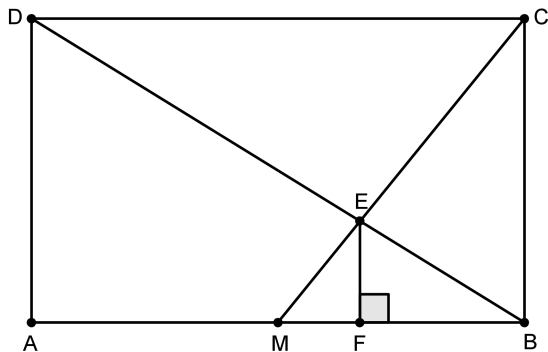


Figura 9

**Exercício 10.** Determine  $x$  na figura abaixo, na qual existem três quadrados de lados  $9$ ,  $x$  e  $4$ .

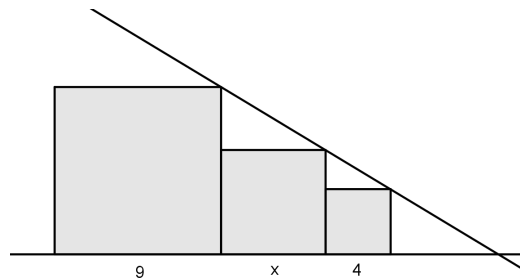


Figura 10

### 3 Exercícios de Aprofundamento e de Exames

**Exercício 11.** Na figura abaixo, temos um triângulo inscrito. Se  $AB = 10$ ,  $AC = 12$  e  $AH = 4$ , determine o raio da circunferência.

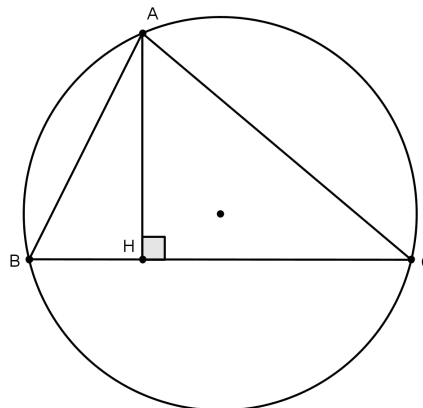


Figura 12

**Exercício 12.** Na figura abaixo, temos  $AC = CB = 10\text{cm}$ ,  $AB = 6\text{cm}$  e  $AM = MB$ . Além disso, o segmento  $BH$  tangencia a semicircunferência com centro em  $M$ . Determine o raio dessa semicircunferência.

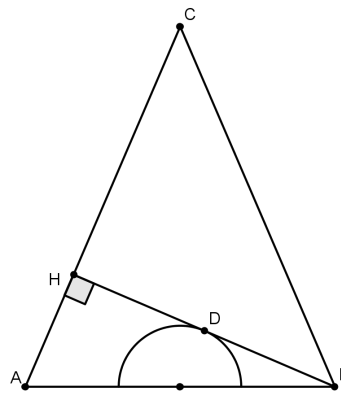


Figura 14

**Exercício 13.** Na figura abaixo, temos duas semicircunferências. Se  $AD = 36$  e  $BC = CD$ , determine  $CD$ .

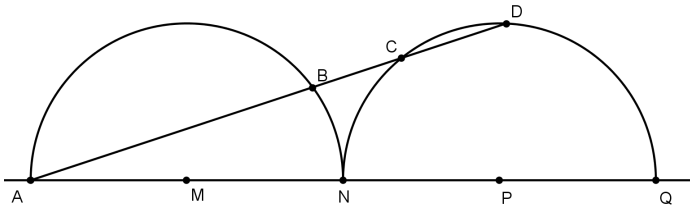


Figura 15

**Exercício 14.** Na figura abaixo,  $\overline{DE} \parallel \overline{AC}$ ,  $\angle ACD \equiv \angle BCD$ ,  $BC = m$  e  $AC = n$ . Determine a medida de  $\overline{DE}$  em função de  $m$  e  $n$ .

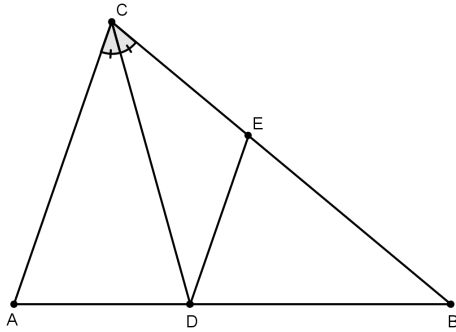


Figura 17

**Exercício 15.** No desenho abaixo, o triângulo  $ABC$  é equilátero e  $BD = CE = AF = AB/3$ . Determine a razão  $EG/GD$ .

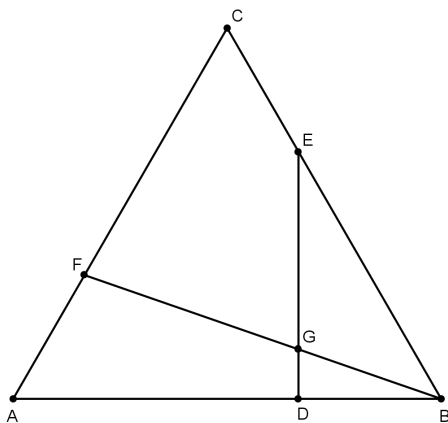


Figura 18

**Exercício 16.** O quadrado  $ABCD$  está inscrito em um círculo cujo raio mede 30. A corda  $\overline{AM}$  intercepta a diagonal  $\overline{BD}$  no ponto  $P$ . Se o segmento  $\overline{AM}$  mede 50, determine a medida do segmento  $\overline{AP}$ .

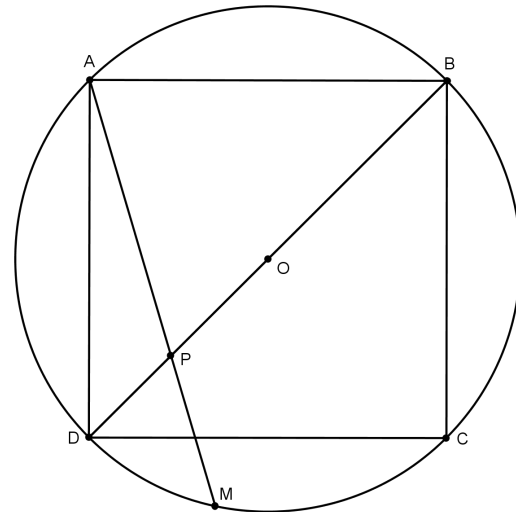


Figura 19

### Respostas e Soluções.

1.

a) Sim, pois  $\angle BAC \equiv \angle DAE$  e  $\angle CBA = \angle EDA = 90^\circ$  (caso Ângulo-Ângulo).

b) Os lados homólogos são:  $\overline{AB}$  e  $\overline{AD}$ ;  $\overline{AC}$  e  $\overline{AE}$ ; e  $\overline{BC}$  e  $\overline{DE}$ .

2. Como  $\angle KLM = \angle QPM = 53^\circ$  e  $\angle KML \equiv \angle QMP$  (opostos pelo vértice), então  $\triangle KLM \simeq \triangle MPQ$ , pelo caso AA.

3. Como  $\frac{20}{10} = \frac{14}{7} = \frac{12}{6} = 2$ , a razão de semelhança é 2  
ou  $\frac{10}{20} = \frac{7}{14} = \frac{6}{12} = 1/2$ .

4. O triângulo formado por João e sua sombra e o triângulo formado pelo poste e sombra do mesmo são semelhantes. Usando a razão de semelhança, temos

$$\begin{aligned} \frac{1,6}{2} &= \frac{x}{7} \\ 2x &= 11,2 \\ x &= 5,6. \end{aligned}$$

Assim, a altura do poste é 5,6m.

5. Como  $MNPQ$  é um quadrado, então  $\overline{PQ} // \overline{MN} // \overline{BC}$ , o que implica que  $\triangle ABC \triangle APQ$ . Chamando o lado do quadrado de  $x$  e aplicando a razão de semelhança, temos

$$\begin{aligned} \frac{12}{8} &= \frac{x}{8-x} \\ 8x &= 96 - 12x \\ x &= \frac{24}{5}. \end{aligned}$$

6. Traçando raios ligando os centros das circunferências aos pontos de tangências, obtemos a figura abaixo.

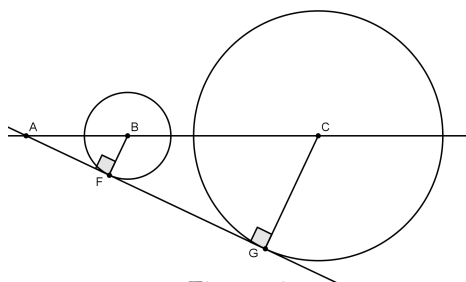


Figura 6

Perceba que  $\triangle ABF \triangle ACG$ . Chamando a distância entre os centros de  $x$  e aplicando a razão de semelhança, temos

$$\begin{aligned} \frac{7}{3} &= \frac{7+x}{5} \\ 21 + 3x &= 35 \\ x &= \frac{14}{3}. \end{aligned}$$

7. (Extraído da Vídeo Aula) Como  $\angle ECD \equiv \angle ACB$  e  $\angle ABC = \angle EDC = 90^\circ$ , os triângulos  $\triangle ABC$  e  $\triangle EDC$  são semelhantes. Aplicando a razão de semelhança, temos:

$$\begin{aligned} \frac{20}{15} &= \frac{15}{DE} \\ 20DE &= 225 \\ DE &= \frac{45}{4}. \end{aligned}$$

8. (Extraído da Vídeo Aula) Como os triângulos  $\triangle CED$  e  $\triangle DFB$  são semelhantes, pois  $\angle CED = \angle DFB = 90^\circ$  e  $\angle CDE \equiv \angle DBF$ , vamos aplicar a razão de semelhança, chamando o lado do quadrado de  $x$ . Temos então

$$\begin{aligned} \frac{4-x}{x} &= \frac{x}{6-x} \\ x^2 &= 24 - 10x + x^2 \\ x &= \frac{12}{5}. \end{aligned}$$

Assim, temos que o perímetro do quadrado  $AEDF$  é  $\frac{48}{5}$ .

9. (Extraído da Vídeo Aula)

Fazendo  $EF = x$ ,  $FB = y$ , temos  $FM = 10 - y$ . Podemos observar a semelhança dos triângulos  $\triangle ADB$  e  $\triangle FEB$ , além dos triângulos  $\triangle CBM$  e  $\triangle EFM$ . Aplicando a razão de semelhança em ambos os casos, obtemos o sistema

$$\begin{cases} \frac{y}{20} = \frac{x}{12} \\ \frac{10-y}{10} = \frac{x}{12} \end{cases}$$

Simplificando, chegamos ao sistema equivalente

$$\begin{cases} 5x - 3y = 0 \\ 5x + 6y = 60 \end{cases}$$

Segue que  $EF = x = 4$ .

10. (Extraído da Vídeo Aula) Nomeando alguns pontos importantes, obtemos a figura abaixo.

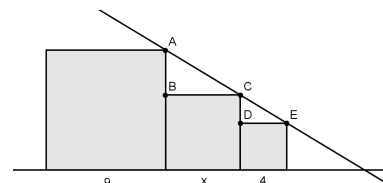


Figura 11

Como os triângulos  $\triangle ABC$  e  $\triangle CDE$  são semelhantes,

vamos aplicar a razão de semelhança.

$$\begin{aligned}\frac{AB}{CD} &= \frac{BC}{DE} \\ \frac{9-x}{x-4} &= \frac{x}{4} \\ x^2 - 4x &= 36 - 4x \\ x^2 &= 36 \\ x_1 &= -6 \\ x_2 &= 6.\end{aligned}$$

Como trata-se de comprimento de segmento, temos, como solução, apenas  $x = 6$ .

11. (Extraído da Vídeo Aula) Traçando o diâmetro  $\overline{AD}$  e, em seguida,  $\overline{DC}$ , obtemos a figura abaixo.

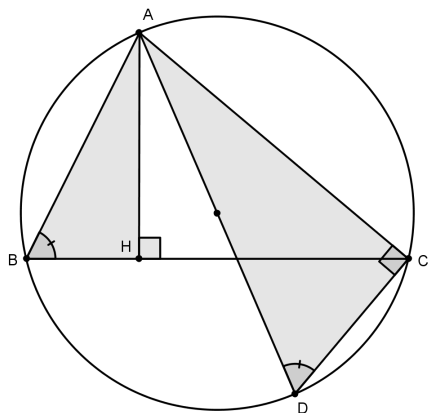


Figura 13

Como  $\angle ABH \equiv \angle ADC$  e  $\angle AHB$  e  $\angle ACD$  são ângulos inscritos que "olham" para o mesmo arco, então eles são congruentes. Além disso,  $\angle ACD = \angle AHB = 90^\circ$  e, portanto,  $\triangle ACD \sim \triangle AHB$ . Aplicando a razão de semelhança e chamando a medida do raio de  $r$ , temos

$$\begin{aligned}\frac{AD}{AB} &= \frac{AC}{AH} \\ \frac{2r}{10} &= \frac{12}{4} \\ 8r &= 120 \\ r &= 15.\end{aligned}$$

12. (Extraído da Vídeo Aula) Traçando um raio de  $M$  até o ponto de tangência entre  $\overline{HB}$  e a semicircunferência e chamando-o de  $D$ , temos  $\triangle ABH \sim \triangle MBD$ , segue que  $AH = 2r$ , sendo  $r$  a medida do raio, pois  $M$  é ponto médio e  $MD$  é base média. Aplicando o Teorema de Pitágoras aos triângulos  $\triangle BHA$  e  $\triangle MBH$ , chegamos ao sistema:

$$\begin{cases} HB^2 + (10 - 2r)^2 = 10^2 \\ HB^2 + (2r)^2 = 6^2 \end{cases}$$

Resolvendo-o, obtemos  $r = 9/10$ cm.

13. (Extraído da Vídeo Aula) Traçando os segmentos  $\overline{BN}$  e  $\overline{PK}$ , sendo este perpendicular a  $\overline{AD}$ , temos os triângulos retângulos  $\triangle ABN$  e  $\triangle AKP$ , que são semelhantes. Observe a figura.

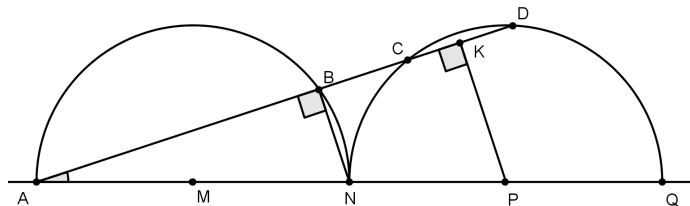


Figura 16

Fazendo  $BC = CD = 2x$ , temos  $CK = KD = x$ , pois  $K$  é ponto médio. Como  $\triangle ABN \sim \triangle AKP$ , temos a seguinte razão de semelhança.

$$\begin{aligned}\frac{AP}{AN} &= \frac{AK}{AB} \\ \frac{3AM}{2AM} &= \frac{36-x}{36-4x} \\ 72-2x &= 108-12x \\ x &= 18/5.\end{aligned}$$

Concluimos que  $CD = 36/5$ .

14. (Extraído da Vídeo Aula)

Como  $\overline{DE} \parallel \overline{AC}$ , então  $\angle DEB = \angle ACB = 2\alpha$ . Pelo Teorema do Ângulo Externo,  $\angle CDE = \alpha$  e, por consequência,  $\overline{CE} \equiv \overline{DE}$ , pois  $\triangle CDE$  é isósceles. Como  $\overline{DE} \parallel \overline{AC}$ , temos, pelo Teorema de Tales, que  $\frac{AD}{DB} = \frac{CE}{EB}$  (1). Além disso, pelo Teorema da Bissetriz Interna, temos  $\frac{AD}{AC} = \frac{BD}{BC}$  (2). Por (1) e (2), temos  $DE = \frac{mn}{m+n}$ .

15. (Extraído da OBM 2014)

Pelos pontos  $E$  e  $D$ , respectivamente, trace paralelas ao lado  $AC$ , determinando os pontos  $H$  e  $I$  sobre o segmento  $FB$ . Seja  $AB = 3x$ . Temos  $\triangle EHB \sim \triangle CFB$  e  $\triangle IDB \sim \triangle FAB$ , daí:  $\frac{HE}{2x} = \frac{HE}{FC} = \frac{EB}{BC} = \frac{2x}{3x}$  e  $\frac{ID}{x} = \frac{ID}{FA} = \frac{DB}{AB} = \frac{x}{3x}$ . Portanto,  $HE = 4x/3$  e  $ID = x/3$ . Como  $\triangle GID \sim \triangle HGE$ , segue que:  $\frac{EG}{GD} = \frac{HE}{ID} = \frac{4x/3}{x/3} = 4$ .

16. (Extraído da OBM 2013) Trace a diagonal  $\overline{AC}$  que intersecta  $\overline{DB}$  no ponto  $O$ . Sendo  $ABCD$  um quadrado,  $O$  é o centro da circunferência. Observe que  $\angle CMA = 90^\circ$  e  $\angle POA = \angle DOA = 90^\circ$ . Logo, pelo caso AA, os triângulos  $\triangle AOP$  e  $\triangle AMC$  são semelhantes e, portanto,  $\frac{AP}{AC} = \frac{AO}{AM}$ , é equivalente a  $\frac{AP}{60} = \frac{30}{50}$ , ou seja,  $AP = 36$ .

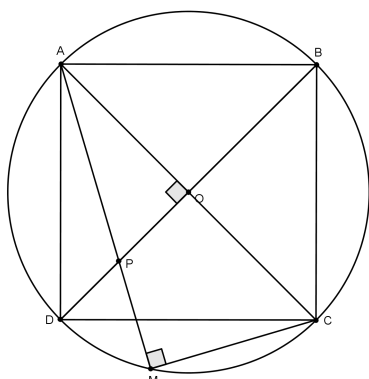


Figura 20

ELABORADO POR CLEBER ASSIS E TIAGO MIRANDA  
PRODUZIDO POR ARQUIMEDES CURSO DE ENSINO  
CONTATO@CURSOARQUIMEDES.COM